











Prénom :	F38	Date :
Domaine :	Acquérir les premiers outils mathématiques	GS
Objectif(s) :	Dénombrer des quantités jusqu'à 10 Résoudre un problème portant sur des quantités	https://charlyseblog.wordpress.com

Consigne : Tu as 2 possibilités : Compléter les collections pour qu'il y ait le nombre demandé de « Chaperon Rouge » ou barrer le nombre de « Chaperon Rouge » en trop.

6	
3	
1	
9	
7	
4	
2	
8	
5	
10	

1	2	3	4	5	6	7	8	9	10
