











Prénom :	F39	Date :
Domaine :	Acquérir les premiers outils mathématiques	GS
Objectif(s) :	Dénombrer une collections de quantités jusqu'à 10 Associer l'écriture chiffrée à une collection	<a href="https://charlyseblog.wordpress.com">https://charlyseblog.wordpress.com</a>

**Consigne :** Compte le nombre de « loups » présents sur chaque ligne puis écrit le chiffre correspondant dans la case.

1	2	3	4	5	6	7	8	9	10
